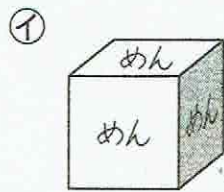
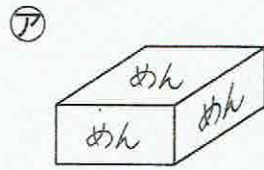


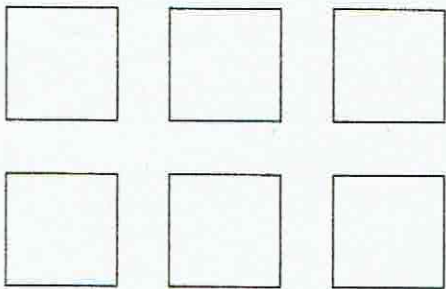
はこの ^{かたち}形 ①

名
前

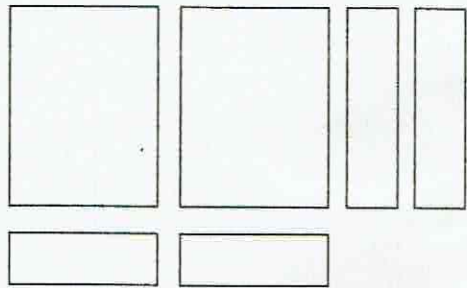
● ㊦㊧のはこのぜんぶのめんを紙にうつしました。



①



②



1. ㊦㊧をうつした ^ず図は ①、②のどちらでしょう。

㊦ () ㊧ ()

2. うつした ^{しかくけい}四角形の ^{なまえ}名前を ^か書きましょう。

① () ② ()

3. うつした ^{めん}面の ^{かず}数は いくつでしょう。

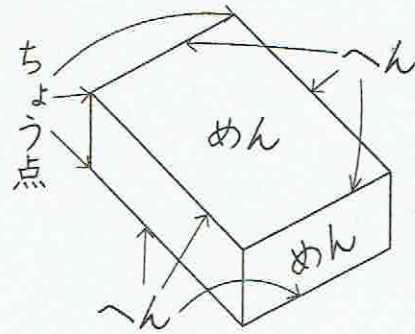
① () ② ()

はこの形②

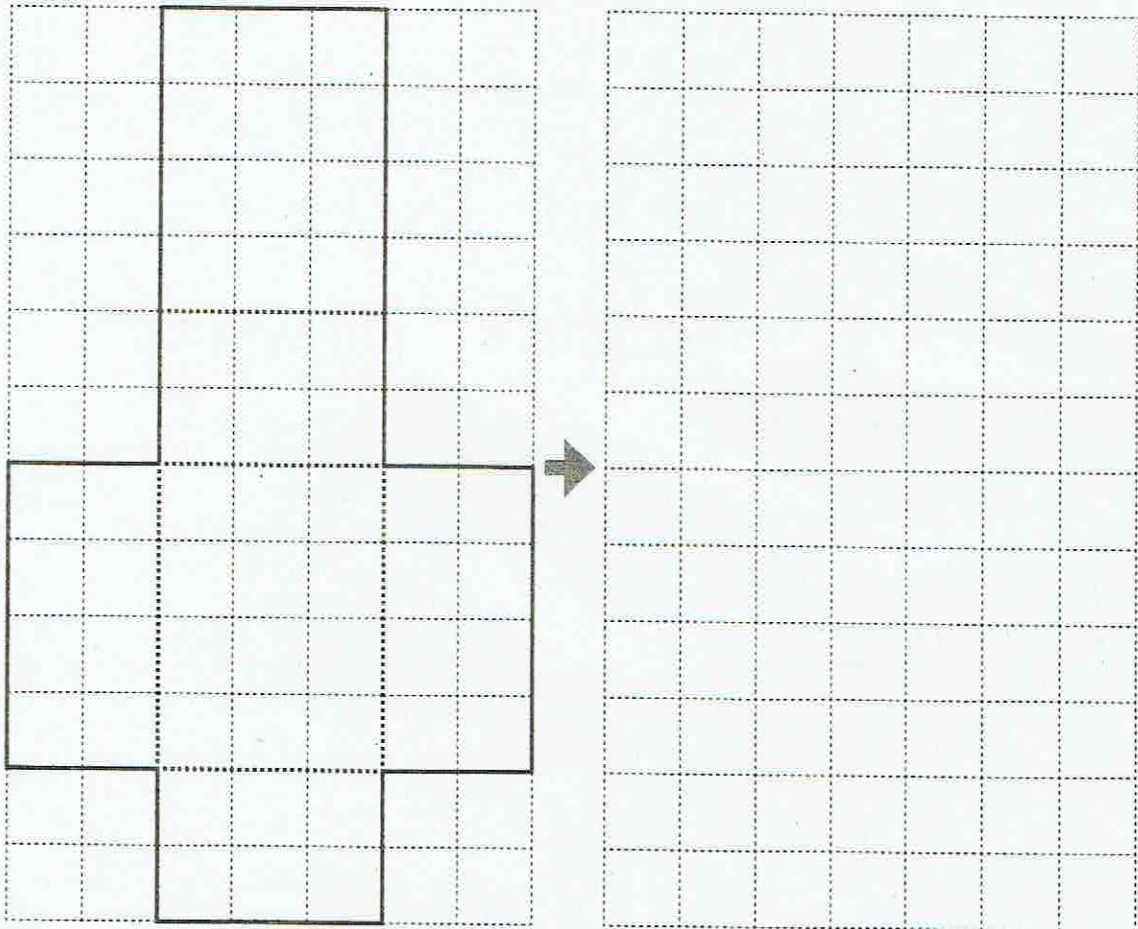
名前

はこの^{かたち}形で、たいらなところをめんといいます。

はこの形の^{ちよくせん}直線をへん
といい、かどの^{てん}とがったところを^{ちようてん}ちょう点と
いいます。



1. はこをひらいた形を右の^{ほう}方がんにうつしましょう。



2. 1つのはこに、めんはいくつありますか。()

はこの ^{かたち} 形 ③

名
前

● イラストさいころを作ろう!

(1) さいころの 1つの めんの ^{かたち} 形は()です。

(2) さいころの めんの ^{かず} 数は()です。

① — の ^{せん} 線に そって、ハサミで 切りとります。

② の 線でおりにまげると、さいころの 形になります。

③ セロテープで はると、かんせいです。

